

- Escribe el número y descompón en Centenas, Decenas y Unidades.

C	D	U
0	0	6

6 Seis

6U

C	D	U
0	9	4

94 Noventa y cuatro

90+4

9D 4U

C	D	U
1	5	9

159 Ciento cincuenta y nueve

100+50+9

1C 5D 9U

C	D	U

582

C	D	U

624

C	D	U

338

C	D	U

845

C	D	U

487

C	D	U

996

C	D	U

273

C	D	U

710

■ Escribir con cifras.

Seiscientos setenta y uno
 Cuatrocientos sesenta y ocho
 Quinientos cuarenta y seis
 Setecientos cincuenta y uno
 Novecientos ochenta y tres
 Doscientos noventa y cinco

Ochocientos dos
 Treinta y cuatro
 Ciento veintisiete
 Ocho
 Doscientos cuarenta
 Trescientos veintiséis

■ Pon el número anterior y posterior.

	196	
	260	
	344	
	469	

	512	
	653	
	721	
	839	

	937	
	70	
	8	
	59	





■ Escribe mayor > o menor <.

195		265
334		259
545		415
870		869

655		790
983		945
179		237
245		354

416		519
729		688
836		951
59		60

■ Dibuja las agujas del reloj indicado la hora.







La 1 en punto

Las 2 y cuarto

Las 3 y media

Las 4 menos cuarto







La 5 en punto

Las 6 y cuarto

Las 7 y media

Las 8 menos cuarto



La 9 en punto

Las 10 y cuarto

Las 11 y media

Las 12 menos cuarto

■ Coloca y resuelve.

$290 + 10 + 4 = 304$

	2	9	0
		1	0
+			4
<hr/>			
	3	0	4

$180 + 3 + 34 =$

+			
<hr/>			

$855 + 2 + 41 =$

+			
<hr/>			

$930 + 80 + 9 =$

+			
<hr/>			

$343 + 21 + 7 =$

+			
<hr/>			

$421 + 50 + 8 =$

+			
<hr/>			

$560 + 65 + 5 =$

+			
<hr/>			

$674 + 95 + 1 =$

+			
<hr/>			

$718 + 75 + 6 =$

+			
<hr/>			

$406 \times 1 = 406$

	4	0	6
x			1
<hr/>			
	4	0	6

$514 \times 2 =$

x			
<hr/>			

$323 \times 3 =$

x			
<hr/>			

$468 - 172 = 296$

	4	6	8
-	1	7	2
<hr/>			
	2	9	6

$383 - 231 = \square$

-			
<hr/>			

$295 - 16 = \square$

-			
<hr/>			

$615 - 324 = \square$

-			
<hr/>			

$823 - 432 = \square$

-			
<hr/>			

$714 - 22 = \square$

-			
<hr/>			

$146 - 2 = \square$

-			
<hr/>			

$556 - 533 = \square$

-			
<hr/>			

$968 - 675 = \square$

-			
<hr/>			

$322 \times 4 = 1288$

	3	2	2
x			4
<hr/>			
1	2	8	8

$211 \times 5 = \square$

x			
<hr/>			

$112 \times 6 = \square$

x			
<hr/>			

$322 \times 4 = 1288$

	3	2	2
x			4
<hr/>			
1	2	8	8

$211 \times 5 = \square$

x			
<hr/>			

$112 \times 6 = \square$

x			
<hr/>			

■ Cubre la tabla.

1	x	1	
1	x	2	
1	x	3	
1	x	4	
1	x	5	
1	x	6	
1	x	7	
1	x	8	
1	x	9	
1	x	10	

2	x	1	
2	x	2	
2	x	3	
2	x	4	
2	x	5	
2	x	6	
2	x	7	
2	x	8	
2	x	9	
2	x	10	

3	x	1	
3	x	2	
3	x	3	
3	x	4	
3	x	5	
3	x	6	
3	x	7	
3	x	8	
3	x	9	
3	x	10	

■ ¿Cuánto dinero hay?



Hay euros y céntimos




Hay euros y céntimos



Hay euros y céntimos



Hay euros y céntimos



Hay euros y céntimos


En el parque hay 122 pinos, 335 olmos y 425 olivos.

¿Cuántos árboles hay en total en el parque?

Datos

Solución

Ana está en el aeropuerto y ve 420 aviones. Si despegan 289 aviones. ¿Cuántos aviones quedan en el aeropuerto?



Datos

Solución

- ¿Qué número es?

		<input type="text"/>
--	--	----------------------


		<input type="text"/>
--	--	----------------------

		<input type="text"/>
--	--	----------------------

		<input type="text"/>
--	--	----------------------

		<input type="text"/>
--	--	----------------------

- *Dibuja los números.* 53 - 114 - 275 - 329 - 484



■ Cubre la tabla.

4	×	1	
4	×	2	
4	×	3	
4	×	4	
4	×	5	
4	×	6	
4	×	7	
4	×	8	
4	×	9	
4	×	10	

5	×	1	
5	×	2	
5	×	3	
5	×	4	
5	×	5	
5	×	6	
5	×	7	
5	×	8	
5	×	9	
5	×	10	

6	×	1	
6	×	2	
6	×	3	
6	×	4	
6	×	5	
6	×	6	
6	×	7	
6	×	8	
6	×	9	
6	×	10	

Eva sacó 320 puntos, José sacó 459 puntos y Álvaro sacó 540 puntos. ¿Cuántos puntos sacaron entre los tres?

Datos

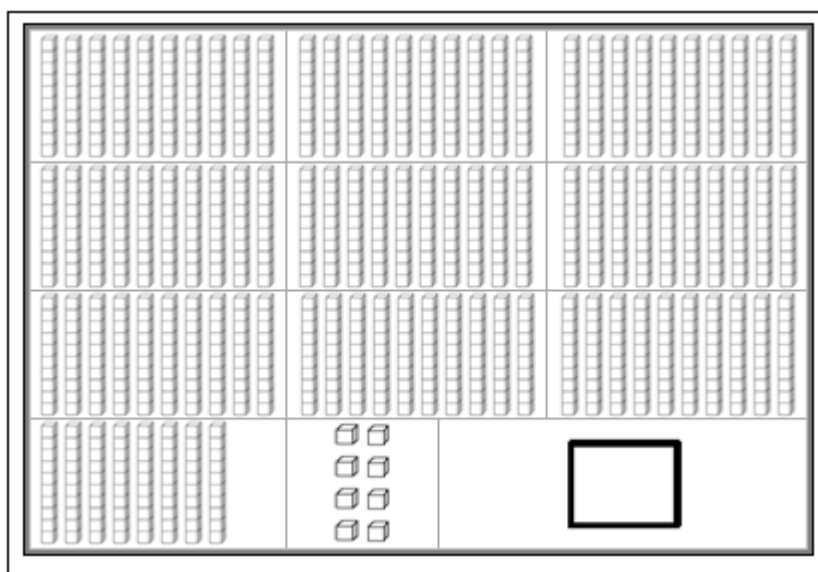
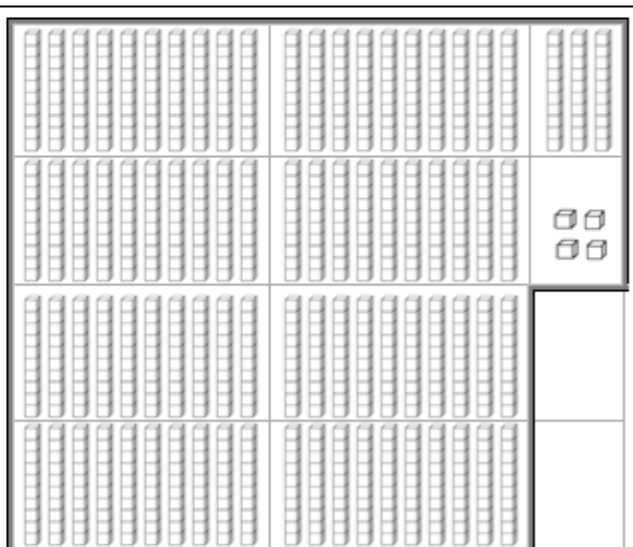



Solución

En una pastelería hay 658 pasteles. Si se venden 465 pasteles. ¿Cuántos pasteles quedan?


Datos

Solución


■ ¿Qué número es?



- *Dibuja los números. 543-636*



- *Dibuja los números. 753-897*



■ Recuerda la tabla.

7	x	1	
7	x	2	
7	x	3	
7	x	4	
7	x	5	
7	x	6	
7	x	7	
7	x	8	
7	x	9	
7	x	10	

8	x	1	
8	x	2	
8	x	3	
8	x	4	
8	x	5	
8	x	6	
8	x	7	
8	x	8	
8	x	9	
8	x	10	

9	x	1	
9	x	2	
9	x	3	
9	x	4	
9	x	5	
9	x	6	
9	x	7	
9	x	8	
9	x	9	
9	x	10	

Un barco pescó 260 peces, otro pescó 346 peces y otro pescó 463 peces. ¿Cuántos peces pescaron entre los tres?

Datos

Solución

En una tienda de deportes hay 658 balones. Si se venden 465 balones. ¿Cuántos balones quedan en la tienda?

Datos

Solución

Inventa un problema de sumar con los siguientes datos y resuélvelo.

Datos

254

363

212

Solución

Inventa un problema de restar con los siguientes datos y resuélvelo.


Datos

954

335

Solución

- Completa la gráfica escribiendo el número de animales.



jirafas	conejos	patos	elefantes	leones

- Representa el ejercicio anterior en la tabla:

10					
9					
8					
7					
6					
5					
4					
3					
2					
1					
	Jirafas	Conejos	Patos	Elefantes	Leones