

Nombre y apellidos _____

Fecha _____

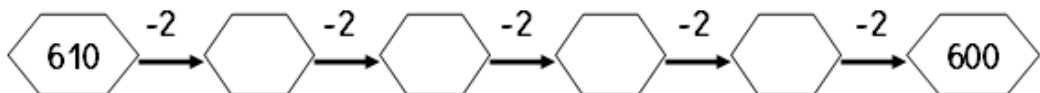
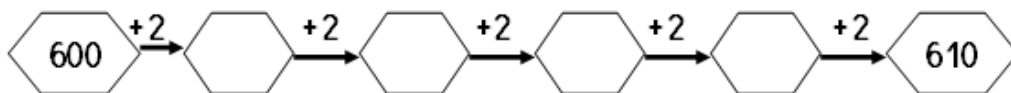
- Escribe del 600 al 610.



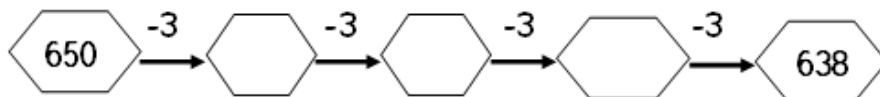
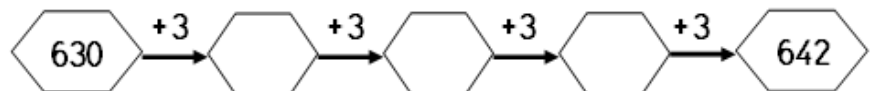
- Escribe del 660 al 650.



- Escribe de 2 en 2.



- Escribe de 3 en 3.



- Escribir el nombre de los siguientes números.

600 seiscientos 610

620 630

640 650

660 670

680 690

- Descompón según el ejemplo.

C	D	U	$600+40+3$ seiscientos cuarenta y tres
6	4	3	6 centena, 4 decenas y 3 unidades
C	D	U	
6	0	3	
C	D	U	
6	7	6	
C	D	U	
6	8	9	
C	D	U	
6	6	5	

- Ordena de mayor a menor.

612 629 630 645 658 661 673 684 696 607

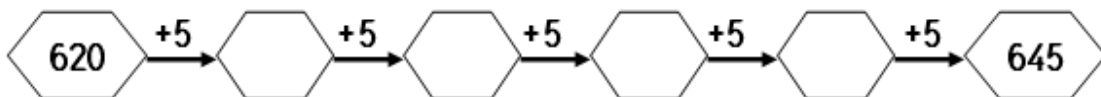
> > > > > > > > > >

- Ordena de menor a mayor.

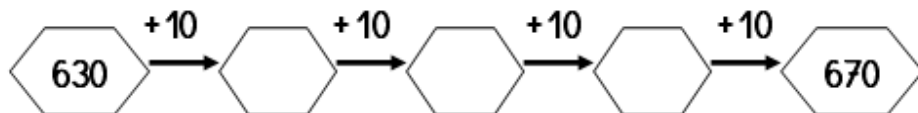
636 619 623 637 648 651 660 674 682 695

< < < < < < < < < <

- Escribe de 5 en 5.



- Escribe de 10 en 10.



■ Escribe mayor > o menor <.

620 619

610 652

664 610

645 654

659 660

689 691

637 673

678 676

698 689

■ Pon el número anterior y posterior:

669

691

678

610

634


647

626


659

682


■ Dibuja las agujas del reloj indicado la hora.




La 4 en punto



Las 6 y cuarto



Las 8 y media



Las 7 menos cuarto

■ Resuelve.

$637 + 23 =$ $658 + 164 =$ $645 + 65 =$

+			
<hr/>			

+			
<hr/>			

+			
<hr/>			

$692 - 174 =$ $626 - 238 =$ $625 - 46 =$


-			
<hr/>			

-			
<hr/>			

-			
<hr/>			

6	×	1	=		6	×	4	=		6	×	7	=	
6	×	2	=		6	×	5	=		6	×	8	=	
6	×	3	=		6	×	6	=		6	×	9	=	

- *Dibuja los números. 645 – 688*



■ ¿Cuánto dinero hay?

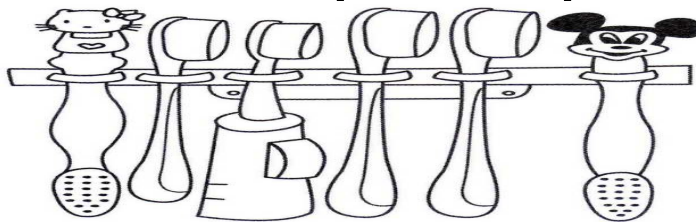


Hay euros y céntimos



Hay euros y céntimos

■ Colorea según el código.



- 1º rojo
- 2º azul
- 3º verde
- 4º amarillo
- 5º naranja
- 6º marrón

■ Une los puntos y colorea.



Nombre y apellidos _____

Fecha _____

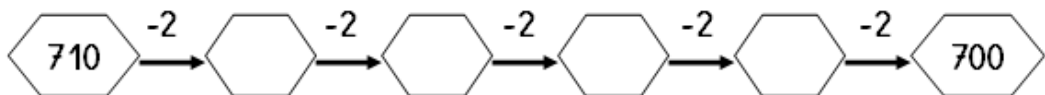
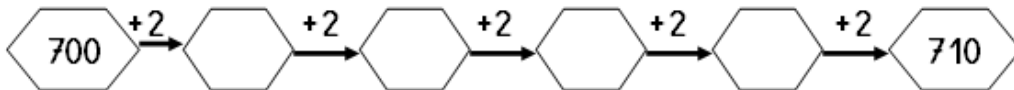
- Escribe del 700 al 710.



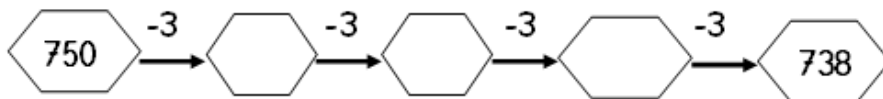
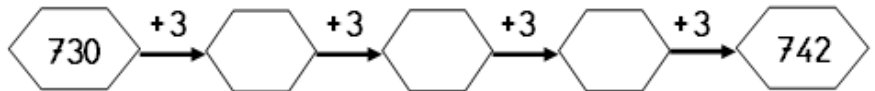
- Escribe del 760 al 750



- Escribe de 2 en 2.



- Escribe de 3 en 3.



- Escribir el nombre de los siguientes números.

700	setecientos	_____	710	_____
720	_____	_____	730	_____
740	_____	_____	750	_____
760	_____	_____	770	_____
780	_____	_____	790	_____

- Descompón según el ejemplo.

C	D	U	$700+40+3$ setecientos cuarenta y tres
7	4	3	7 centena, 4 decenas y 3 unidades
C	D	U	
7	0	3	
C	D	U	
7	7	6	
C	D	U	
7	8	9	
C	D	U	
7	6	5	

- Ordena de mayor a menor.

702 719 720 735 748 751 763 774 786 797

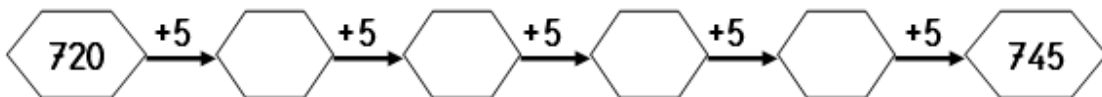
> > > > > > > > >

- Ordena de menor a mayor.

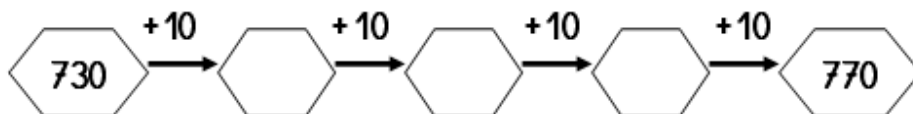
706 719 723 737 748 751 760 774 782 795

< < < < < < < < <

- Escribe de 5 en 5.



- Escribe de 10 en 10.



■ Escribe mayor > o menor <.

720 719 710 752 764 710

745 754 759 760 789 791

737 773 778 776 798 789


■ Pon el número anterior y posterior:

769 791 778


710 734 747

726 759 782


■ Dibuja las agujas del reloj indicado la hora.




La 11 en punto



Las 9 y cuarto



Las 10 y media



Las 5 menos cuarto

■ Resuelve.

$736 + 196 =$ $729 + 284 =$ $785 + 65 =$

+			
<hr/>			

+			
<hr/>			

+			
<hr/>			

$768 - 179 =$ $743 - 276 =$ $755 - 66 =$


-			
<hr/>			

-			
<hr/>			

-			
<hr/>			

7	×	1	=		7	×	4	=		7	×	7	=	
7	×	2	=		7	×	5	=		7	×	8	=	
7	×	3	=		7	×	6	=		7	×	9	=	

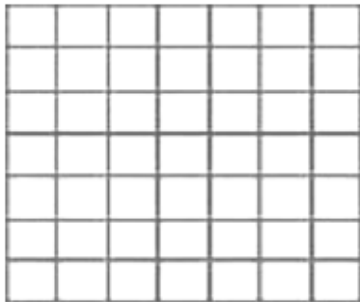
En el parque plantaron 727 pinos y 215 olmos.
 ¿Cuántos árboles hay en total en el parque?



Datos

Solución

En un barco van 748 pasajeros. Si se bajan 356 pasajeros.
 ¿Cuántos pasajeros van ahora en el barco?




Datos

Solución

■ ¿Qué número es?

- *Dibuja los números. 745 – 788*



■ ¿Cuánto dinero hay?

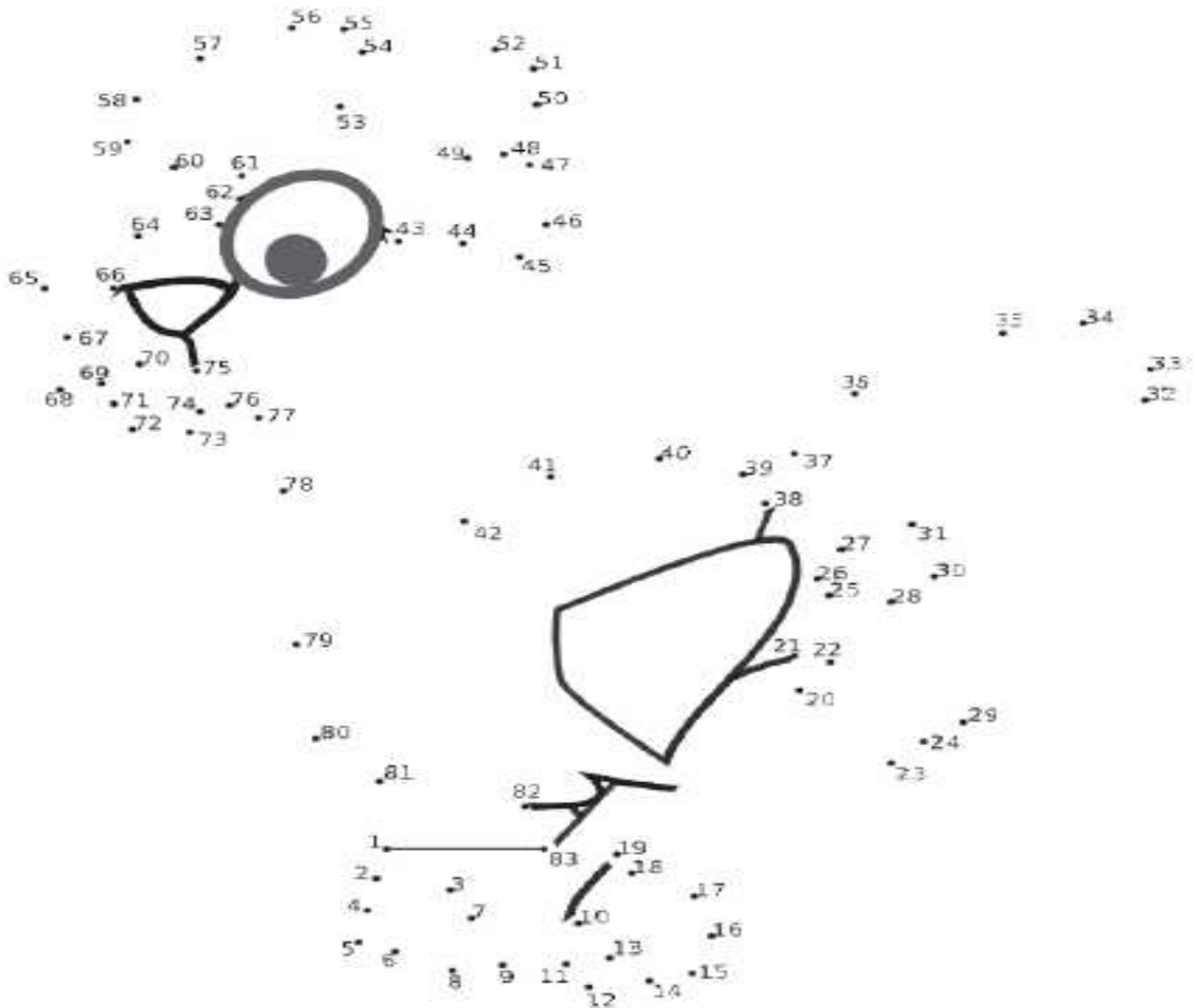


Hay euros y céntimos



Hay euros y céntimos

■ Une los números y colorea el dibujo.



Nombre y apellidos _____

Fecha _____

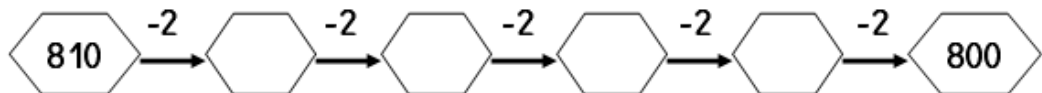
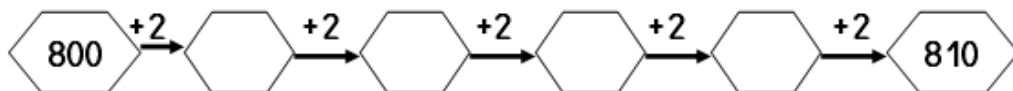
- Escribe del 800 al 810.



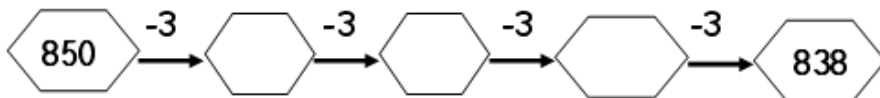
- Escribe del 860 al 850



- Escribe de 2 en 2.



- Escribe de 3 en 3.



- Escribir el nombre de los siguientes números.

800 ochocientos

810

820

830

840

850

860

870

880

890

- Descompón según el ejemplo.

C	D	U	$800+40+3$ ochocientos cuarenta y tres
8	4	3	8 centena, 4 decenas y 3 unidades
C	D	U	
8	0	3	
C	D	U	
8	7	6	
C	D	U	
8	8	9	
C	D	U	
8	6	5	

- Ordena de mayor a menor.

892 889 870 865 858 841 833 824 816 807

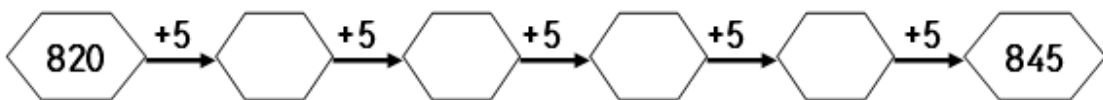
> > > > > > > > > >

- Ordena de menor a mayor.

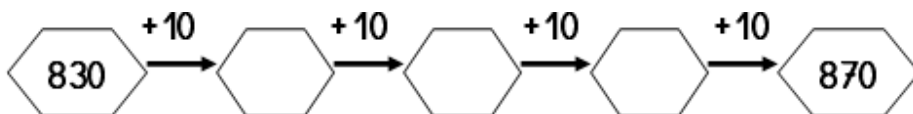
896 889 873 867 858 841 830 824 812 805

< < < < < < < < < <

- Escribe de 5 en 5.



- Escribe de 10 en 10.




■ Escribe mayor > o menor <.

820	<input type="text"/>	819	810	<input type="text"/>	852	864	<input type="text"/>	810
845	<input type="text"/>	854	859	<input type="text"/>	860	889	<input type="text"/>	891
837	<input type="text"/>	873	878	<input type="text"/>	876	898	<input type="text"/>	889


■ Pon el número anterior y posterior:

<input type="text"/>	869	<input type="text"/>	<input type="text"/>	891	<input type="text"/>	<input type="text"/>	878	<input type="text"/>
<input type="text"/>	810	<input type="text"/>	<input type="text"/>	834	<input type="text"/>	<input type="text"/>	847	<input type="text"/>
<input type="text"/>	826	<input type="text"/>	<input type="text"/>	859	<input type="text"/>	<input type="text"/>	882	<input type="text"/>


■ Dibuja las agujas del reloj indicado la hora.




La 9 en punto



Las 11 y cuarto



Las 12 y media



Las 8 menos cuarto

■ Resuelve.

$877 + 123 =$ $853 + 244 =$ $825 + 65 =$

+			
<hr/>			

+			
<hr/>			

+			
<hr/>			

$868 - 172 =$ $883 - 231 =$ $895 - 16 =$


-			
<hr/>			

-			
<hr/>			

-			
<hr/>			

8	×	1	=		8	×	4	=		8	×	7	=	
8	×	2	=		8	×	5	=		8	×	8	=	
8	×	3	=		8	×	6	=		8	×	9	=	


En un tren van 827 pasajeros y se suben 215 pasajeros más. ¿Cuántos pasajeros lleva ahora el tren?



Datos

Solución

Raúl es médico y tiene 848 pacientes. Si ya ha visto 556 pacientes. ¿Cuántos pacientes le faltan por ver?



Datos

Solución

■ ¿Cuánto dinero hay?




Hay euros y céntimos



Hay euros y céntimos

- *Dibuja los números. 845 – 888*



Nombre y apellidos _____

Fecha _____

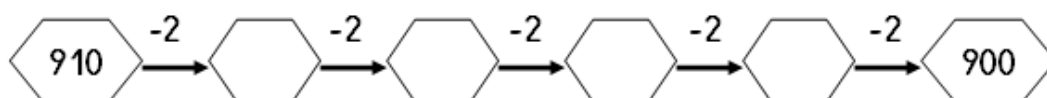
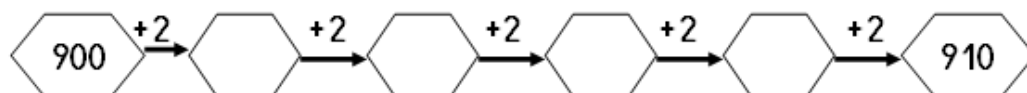
- Escribe del 900 al 910.



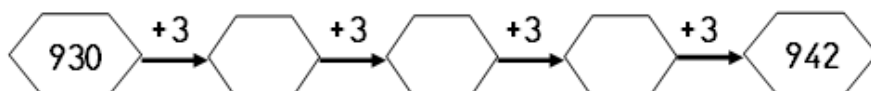
- Escribe del 960 al 950



- Escribe de 2 en 2.



- Escribe de 3 en 3.



- Escribir el nombre de los siguientes números.

900 novecientos _____ 910 _____

920 _____ 930 _____

940 _____ 950 _____

960 _____ 970 _____

980 _____ 990 _____

1000 _____

- Descompón según el ejemplo.

C	D	U	$900+40+3$	<i>novecientos cuarenta y tres</i>
9	4	3		<i>9 centena, 4 decenas y 3 unidades</i>
C	D	U		
9	0	3		
C	D	U		
9	7	6		
C	D	U		
9	8	9		
C	D	U		
9	6	5		

- Ordena de mayor a menor.

912 939 940 955 968 971 923 984 996 907

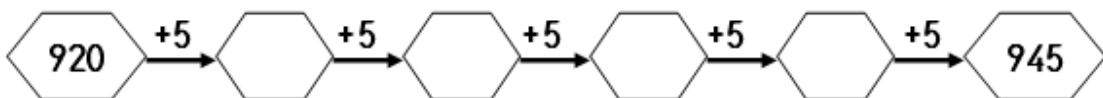
> > > > > > > > >

- Ordena de menor a mayor.

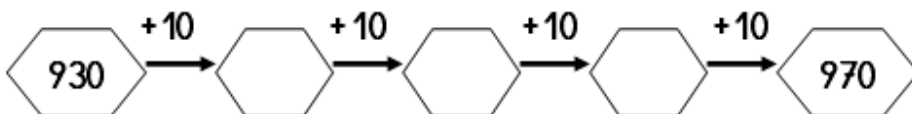
966 949 953 967 978 981 920 994 912 905

< < < < < < < < <

- Escribe de 5 en 5.



- Escribe de 10 en 10.



■ Escribe mayor > o menor <.

890 919 910 952 964 910

945 954 959 960 989 991

937 973 978 976 998 989


■ Pon el número anterior y posterior:

969 991 978


910 934 947

926 959 982


■ Dibuja las agujas del reloj indicado la hora.




La 9 en punto



Las 5 y cuarto



Las 3 y media



Las 6 menos cuarto

■ Resuelve.

$915 + 128 =$ $923 + 247 =$ $925 + 65 =$

-			
<hr/>			

-			
<hr/>			

-			
<hr/>			

$961 - 172 =$ $923 - 234 =$ $945 - 66 =$

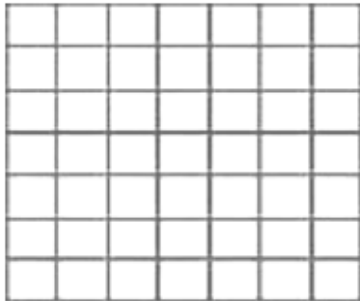
-			
<hr/>			

-			
<hr/>			

-			
<hr/>			

9	×	1	=		9	×	4	=		9	×	7	=	
9	×	2	=		9	×	5	=		9	×	8	=	
9	×	3	=		9	×	6	=		9	×	9	=	

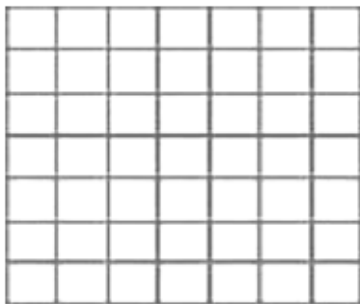
En una caja hay 527 botellas de agua y en otra botella hay 375. ¿Cuántas botellas hay en total?



Datos

Solución

En un hotel hay 948 habitaciones. Si están ocupadas 556 habitaciones. ¿Cuántas habitaciones faltan por ocupar?



Datos

Solución

■ ¿Cuánto dinero hay?



Hay euros y céntimos



Hay euros y céntimos

- *Dibuja los números. 945 - 984*

